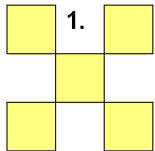
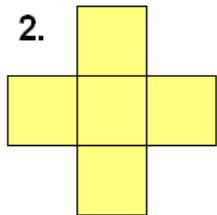


DOMÁCÍ ÚKOL 020 - ZADÁNÍ

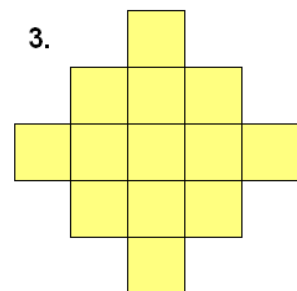
1. Vypočti obsah obrazce, jestliže strana jednoho čtverce je 7 dm.



2. Obvod obrazce je 132 cm. Vypočti jeho obsah.



3. Obsah celého obrazce je 208 cm². Vypočti jeho obvod.



4. Celkový obsah druhého obrazce je 400 cm². Vypočti obvod obrazce prvního.

